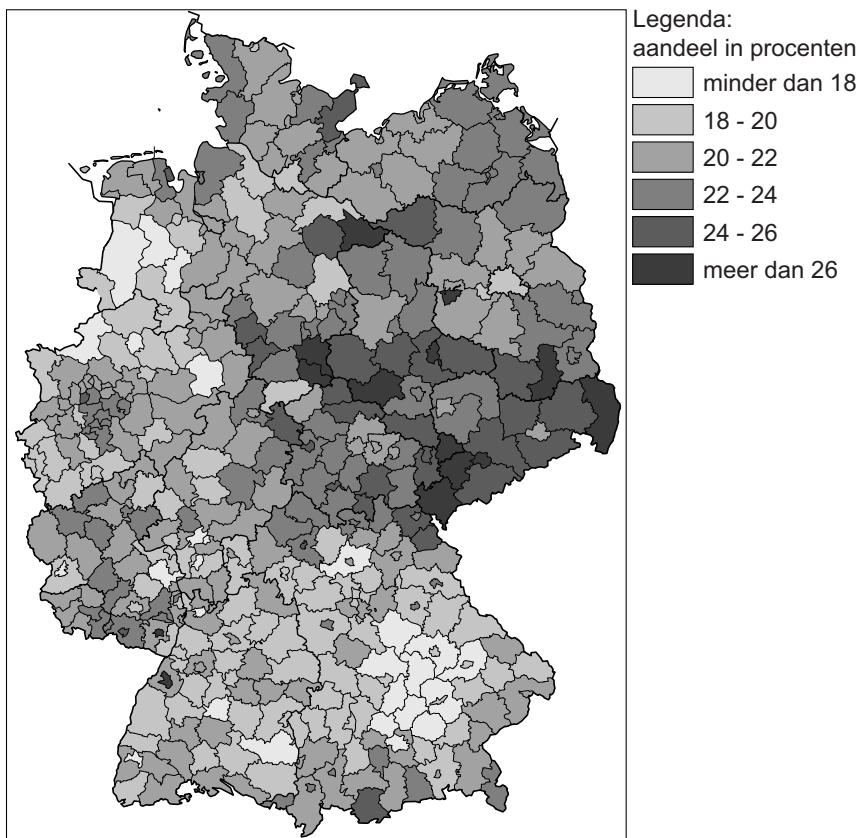


Bevolking en ruimte

bron 30

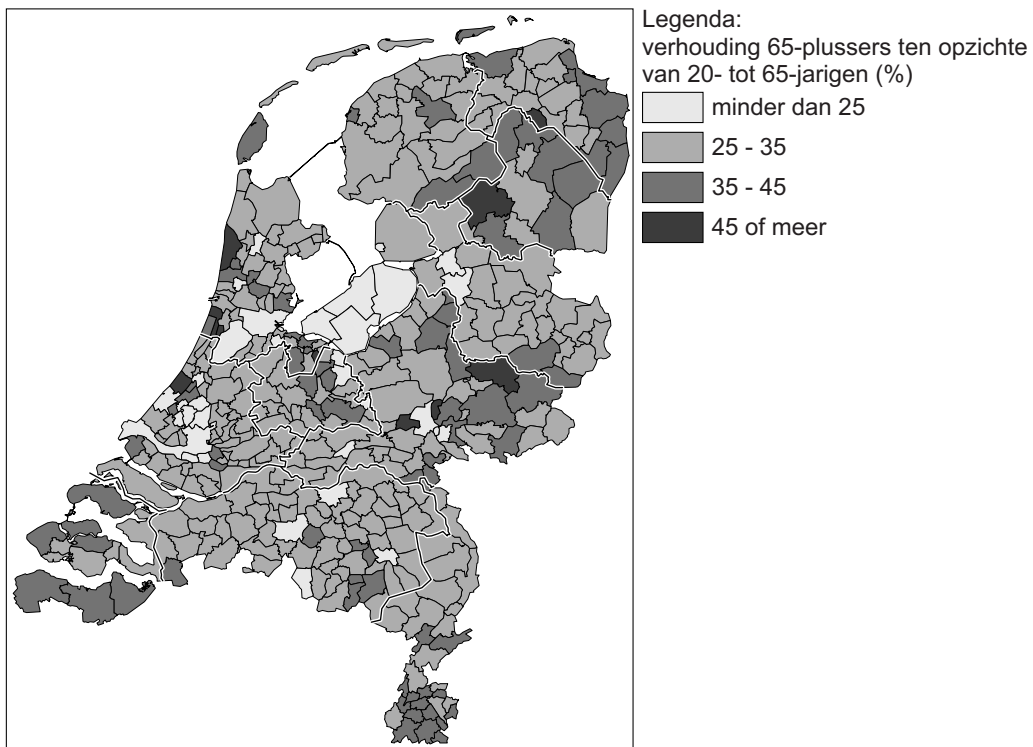
Duitsland, bevolking van 65 jaar en ouder per regio 2011



- 1p 32 Bron 30 laat zien dat de bevolking van 65 jaar en ouder niet gelijkmatig verspreid is over Duitsland.
→ Geef de oorzaak van het hoge percentage inwoners van 65 jaar en ouder in het oosten van Duitsland ten opzichte van de rest van Duitsland.

bron 31

Grijze druk* per gemeente, 2012



*Grijze druk is de verhouding tussen het aantal personen van 65 jaar en ouder en het aantal personen van 20 tot 65 jaar.

1p 33 Bekijk bron 31.

→ Geef eerst aan welke provincie het **laagste** percentage 65-plussers heeft ten opzichte van de 20- tot 65-jarigen.
Geef vervolgens een oorzaak van dit lage percentage.

bron 32

Drie bevolkingsdiagrammen van Duitsland

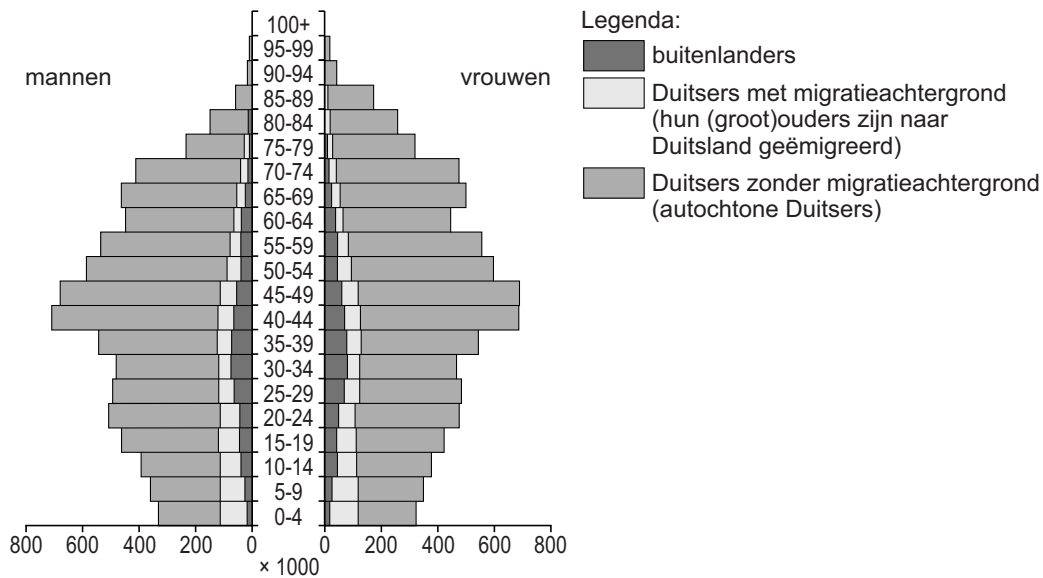


- 1p 34 De bevolkingsdiagrammen van Duitsland in bron 32 staan in willekeurige volgorde en zijn van 1960, 2000 en 2040. Achter welke letter staan de cijfers 1, 2 en 3 van de bevolkingsdiagrammen in bron 32 juist bij de jaartallen?

	1960	2000	2040
A	1	2	3
B	1	3	2
C	2	1	3
D	2	3	1
E	3	1	2
F	3	2	1

bron 33

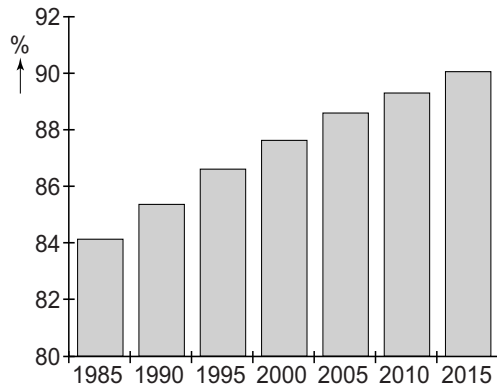
Bevolkingsgrafiek van Duitsland, 2009



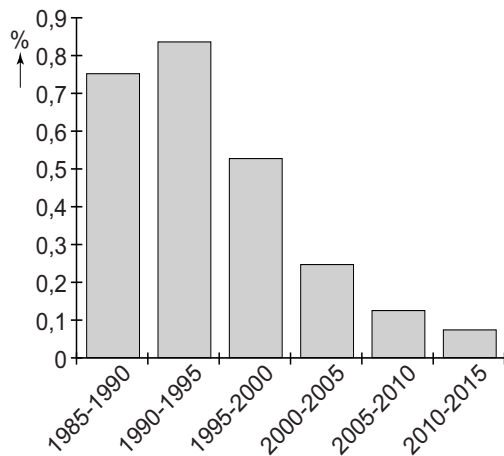
- 2p 35 Over bron 33 worden drie uitspraken gedaan.
- Uitspraak 1: de gemiddelde leeftijd van Duitsers zonder migratieachtergrond ligt hoger dan van Duitsers met migratieachtergrond.
- Uitspraak 2: bij de buitenlanders in Duitsland is de groep 0- tot 20-jarigen en de groep van 65 jaar en ouder relatief klein, omdat buitenlanders vooral arbeidsmigrant zijn in Duitsland.
- Uitspraak 3: de groep Duitsers met migratieachtergrond bestaat voor een belangrijk deel uit kinderen en kleinkinderen van gastarbeiders.
- Neem de cijfers 1, 2 en 3 van de uitspraken over op het antwoordblad en zet erachter of de uitspraak juist of onjuist is.

bron 34

Duitsland, urbanisatiegraad, 1985 - 2015



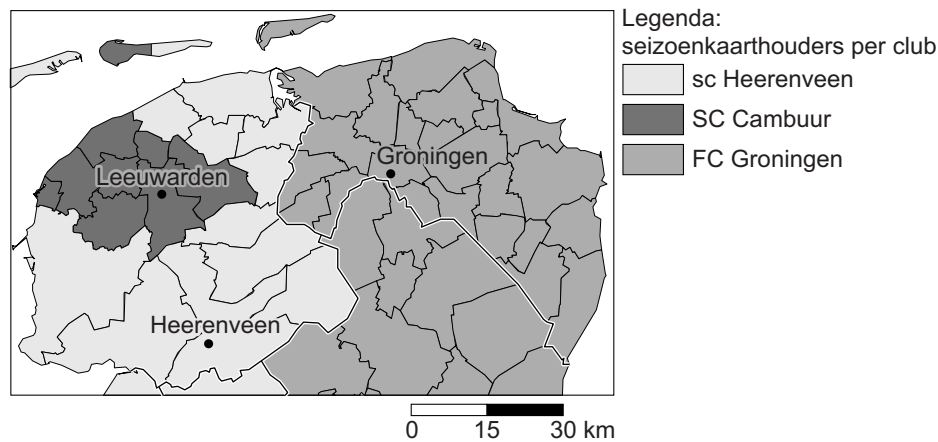
Duitsland, groei van de stedelijke bevolking, 1985 - 2015



- 1p 36 Over bron 34 worden twee uitspraken gedaan.
- Uitspraak 1: na 1995 nam de groei van het aantal stedelingen in Duitsland af, maar Duitsland verstedelijkte nog wel steeds verder.
- Uitspraak 2: door de dalende bevolkingsgroei in de Duitse steden tussen 1985 en 2015 is de bevolkingsdichtheid in de steden afgenomen.
- Wat is juist?
- A Alleen uitspraak 1 is juist.
 - B Alleen uitspraak 2 is juist.
 - C Beide uitspraken zijn juist.
 - D Beide uitspraken zijn onjuist.

bron 35

Herkomstgebied van seizoenkaarthouders in Noord-Nederland



2p 37 Bron 35 laat in grote lijnen de woonplaats van seizoenkaarthouders van de drie noordelijke eredivisievoetbalclubs van het seizoen 2014-2015 zien: sc Heerenveen, SC Cambuur en FC Groningen. In de kaart zijn de herkomstgebieden ingekleurd naar de club met de meeste seizoenkaarthouders in dat gebied.

Over deze kaart worden drie uitspraken gedaan:

Uitspraak 1: de kaart gaat over het verzorgingsgebied van de drie noordelijke eredivisievoetbalclubs.

Uitspraak 2: in Nederland is de drempelwaarde voor elke voetbalclub gelijk.

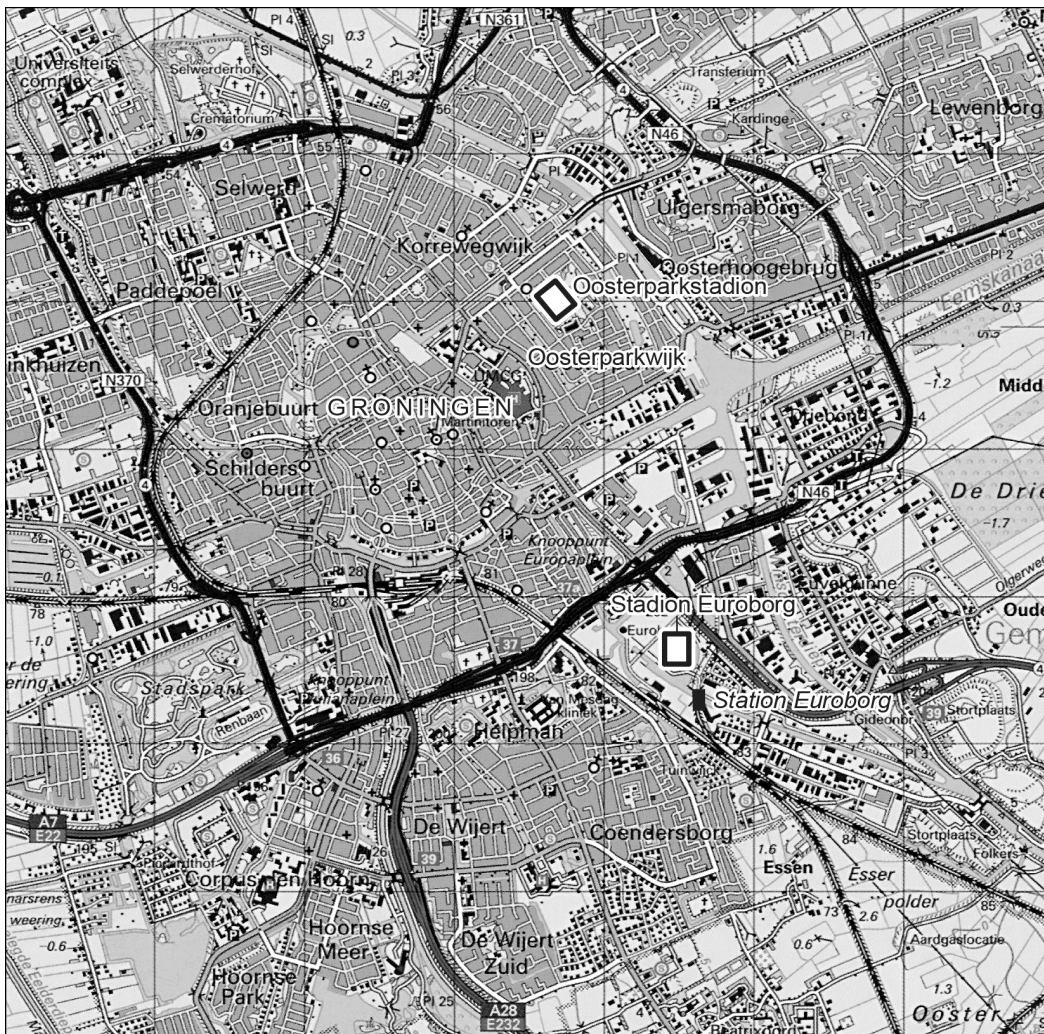
Uitspraak 3: de maximale afstand die de seizoenkaarthouders willen afleggen om hun favoriete club te zien voetballen noemen we de reikwijdte.

→ Neem de cijfers 1, 2 en 3 van de uitspraken over op het antwoordblad en zet erachter of de uitspraak juist of onjuist is.

bron 36
Stadion Euroborg

In de tweede helft van de jaren 90 ontstond in Groningen het plan om een nieuw stadion voor profvoetbalclub FC Groningen te bouwen op een nieuwe locatie: Stadion Euroborg. Het oude Oosterparkstadion voldeed niet meer aan de moderne eisen. Op de oude locatie waren te weinig mogelijkheden voor een groter stadion.

bron 37
De stad Groningen

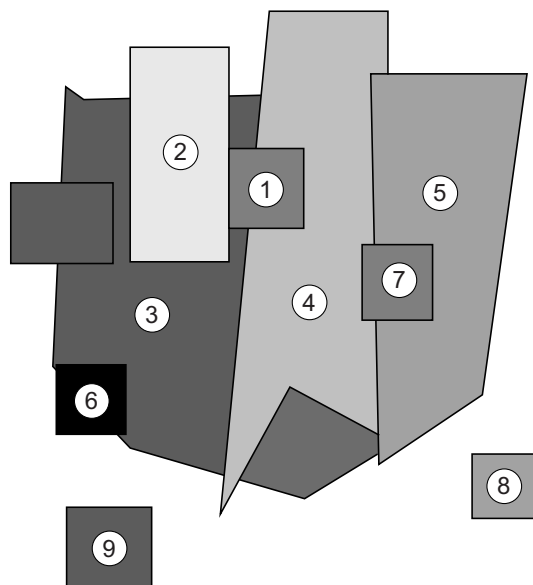


Legenda: — spoorweg == autowegen 0 50 100 m

- 1p 38 Lees bron 36 en bekijk bron 37.
De nieuwe locatie van Stadion Euroborg biedt meer groeimogelijkheden dan de oude locatie in de Oosterparkwijk.
→ Geef met behulp van bron 37 nog een reden waarom FC Groningen gekozen heeft voor de nieuwe locatie.

bron 38

Meerkernenmodel



Legenda:

- 1 Central business district
- 2 groothandel en lichte industrie
- 3 woongebieden met lage huren
- 4 woongebieden met middenklasse huren
- 5 woongebieden met hoge huren
- 6 zware industrie
- 7 excentrisch gelegen zakendistrict
- 8 suburbaan woongebied
- 9 suburbane industrie

- 1p 39 Bekijk bron 38.
De stad Groningen is min of meer opgebouwd volgens een concentrisch model. Berlijn, de hoofdstad van Duitsland, is meer opgebouwd volgens het meerkernenmodel.
→ Noem een historische gebeurtenis die de opbouw van Berlijn als meerkernenstad mede verklaart.

bron 39

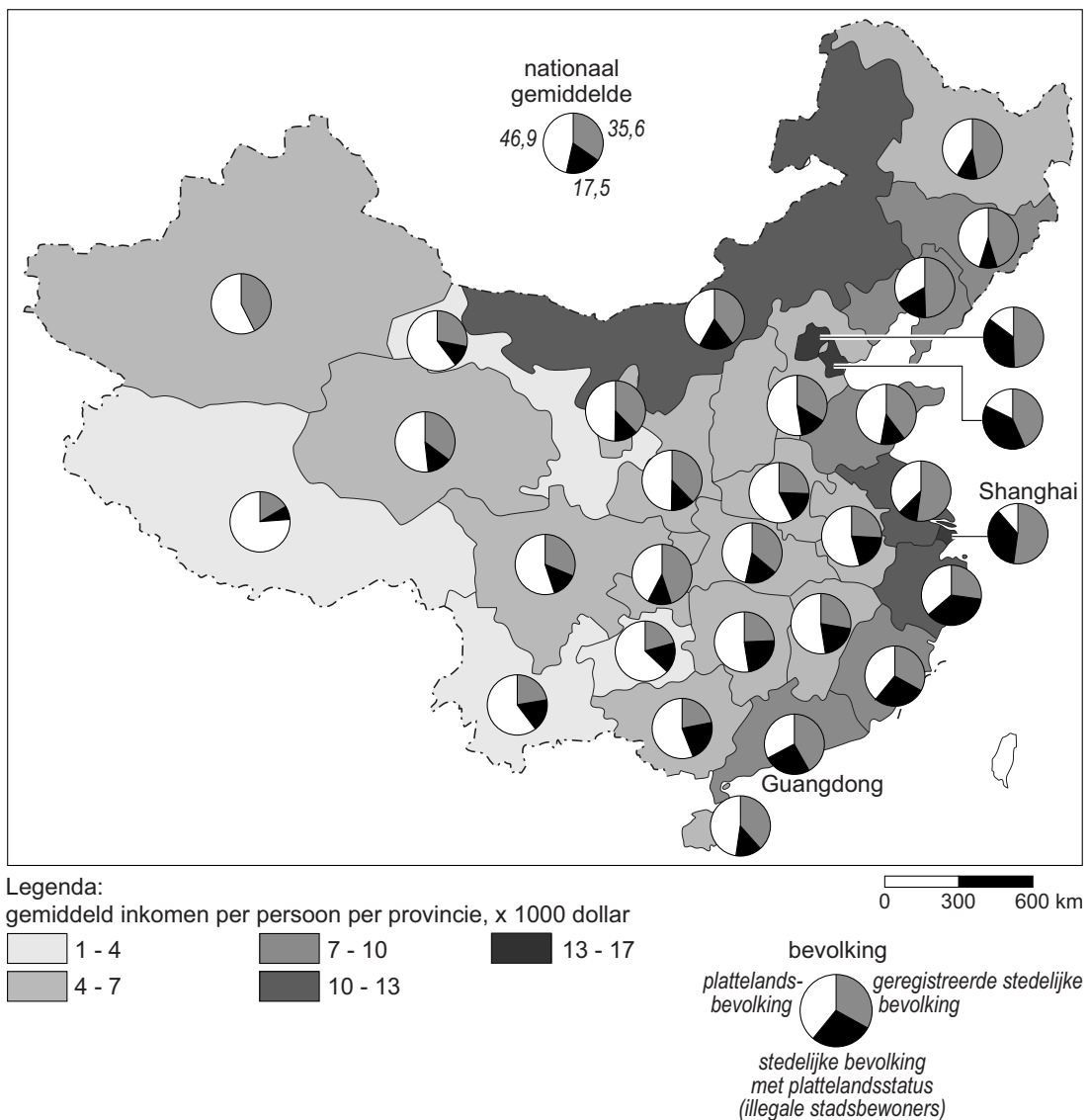
Speciale Economische Zones

Een Chinese Speciale Economische Zone is een stedelijk gebied in China waar de regering buitenlandse handel en investeringen toelaat. In 1979 werden de eerste vier zones aangewezen: Xiamen, Shenzhen, Zhuhai en Shantou. De zones kenden al snel een enorme bevolkingsgroei. Door het succes besloot de regering in 1984 nog veertien nieuwe zones aan te wijzen.

- 2p 40 Lees bron 39.
Voor westerse bedrijven is het zeer aantrekkelijk om zich in China te vestigen.
→ Geef twee redenen waarom het voor westerse bedrijven zo aantrekkelijk is om zich in China te vestigen.
- 2p 41 Lees bron 39.
Voor de Chinezen heeft het aanwijzen van de Speciale Economische Zones niet alleen voordelen, maar ook nadelen.
→ Geef twee nadelige gevolgen voor de Chinezen die wonen in één van deze Speciale Economische Zones.

bron 40

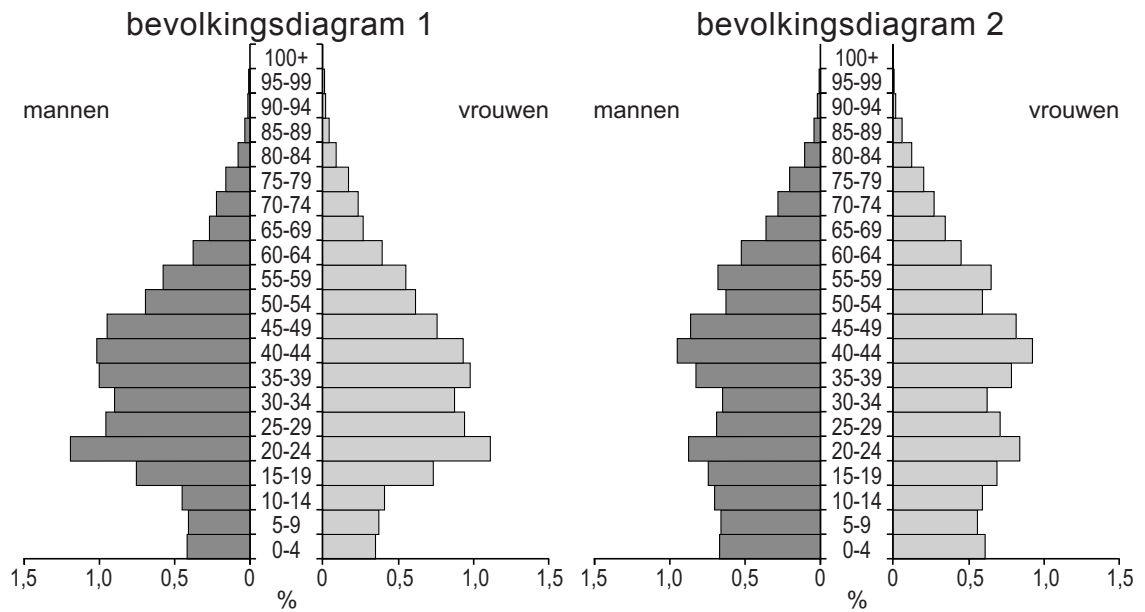
China, inkomsten en bevolking



- 2p 42 Er worden drie uitspraken gedaan over bron 40.
Uitspraak 1: in het oosten van China liggen meer steden dan in het westen.
Uitspraak 2: het percentage geregistreerde stedelijke bevolking is in de stadprovincie Shanghai kleiner dan in de provincie Guangdong.
Uitspraak 3: het gemiddelde inkomen per persoon is in het westen lager dan in het oosten.
→ Neem de cijfers 1, 2 en 3 van de uitspraken over op het antwoordblad en geef bij elke uitspraak aan of deze juist of onjuist is.
- 1p 43 In bron 40 staat in de legenda over de bevolking een groep omschreven als 'stedelijke bevolking met plattlandsstatus'. Deze groep heeft dus niet de juiste status voor het gebied waar zij wonen en werken.
→ Geef een reden waarom deze groep vooral voorkomt in de oostelijke provincies en bijna niet in de westelijke provincies.

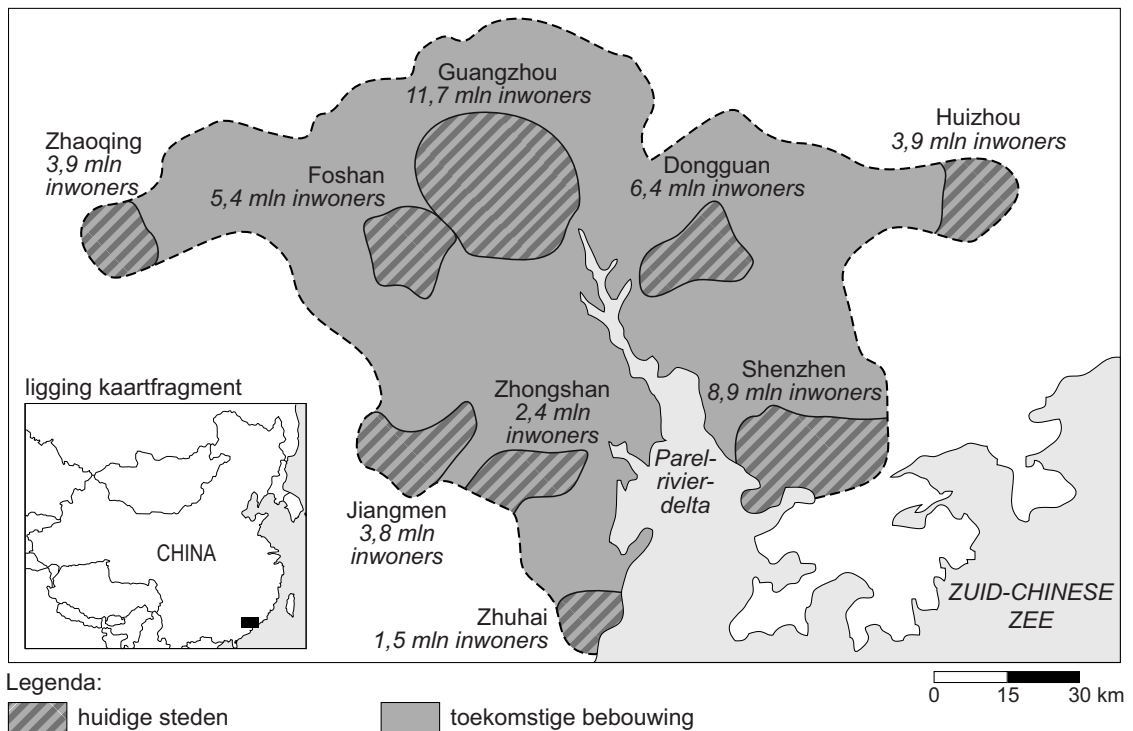
bron 41

China, twee bevolkingsdiagrammen



- 1p 44 Eén van de twee bevolkingsdiagrammen in bron 41 is van een stedelijk gebied en het andere is van een landelijk gebied.
- Welk bevolkingsdiagram hoort bij een stedelijk gebied zoals Shanghai? Kies uit: bevolkingsdiagram 1 of bevolkingsdiagram 2.
 - Geef daarna een argument voor je keuze.

bron 42
De Parelrivierdelta



- 1p 45 Bron 42 laat de huidige en de toekomstige Parelrivierdelta zien. De aanwezige steden in de Parelrivierdelta zullen in de toekomst aan elkaar groeien.
- Welk begrip past het best bij de toekomstige Parelrivierdelta?
- A concessiegebied
 - B gated community
 - C hutong
 - D metropolitaan gebied

Bronvermelding

Een opsomming van de in dit examen gebruikte bronnen, zoals teksten en afbeeldingen, is te vinden in het bij dit examen behorende correctievoorschrift, dat na afloop van het examen wordt gepubliceerd.